


МИНИСТАРСТВО ПРОСВЕТЕ, НАУКЕ И ТЕХНОЛОШКОГ  
РАЗВОЈА РЕПУБЛИКЕ СРБИЈЕ  
И СРПСКО ГЕОГРАФСКО ДРУШТВО

---

ОПШТИНСКО ТАКМИЧЕЊЕ ИЗ  
ГЕОГРАФИЈЕ  
ЗА 8. РАЗРЕД



Београд, 2016.



1. На линијама иза тачних тврдњи упиши „Т“, а иза нетачних „Н“:

- а) Површина Земље износи приближно 410 милиона  $\text{km}^2$ . \_\_\_\_\_
- б) Најближа планета Сунцу је Венера. \_\_\_\_\_
- в) Комете и метеори су небеска тела. \_\_\_\_\_
- г) Јединица мере за светлосну годину је секунда. \_\_\_\_\_
- д) Планета Марс нема сателите. \_\_\_\_\_

(5 x 2= 10)

2. Заокружи слово испред тачног одговора.

Наука која се бави проучавањем земљишта назива се:

- а) педологија
- б) педографија
- в) палеонтологија
- г) палеогеографија

(2)

3. Заокружи слова испред тачних одговора.

Са становницима којих европских држава ће становници Србије истовремено прославити почетак Нове године по Грегоријанском календару?

- а) Естоније
- б) Грчке
- в) Француске
- г) Румуније
- д) Пољске

(2 x 2 = 4)

4. Нови Сад је од Београда удаљен 93 km. Израчунај колико то растојање износи у cm на топографској карти 1:300 000.

(2)

5. Уписивањем одговарајућих слова на цртице испред појмова повежи узроке и непосредне последице.

- |   |                   |
|---|-------------------|
| а) обилне падавине                      | _____ киселе кише |
| б) високе температуре ваздуха           | _____ земљотрес   |
| в) интензивни развој индустријализације | _____ ураган      |
| г) подземна експлоатација рудника угља  | _____ поплава     |
|   | _____ суша        |

(5 x 2= 10)



6. Допуни реченицу.

Конфесионална структура другачије се назива и \_\_\_\_\_ структура становништва.

(2)

7. Уписивањем редних бројева од 1 до 5 поређај флористичке појасеве почев од најнижег (1) до највишег (5).

\_\_\_\_\_ шуме храста китњака

\_\_\_\_\_ четинари

\_\_\_\_\_ шуме букве

\_\_\_\_\_ степе

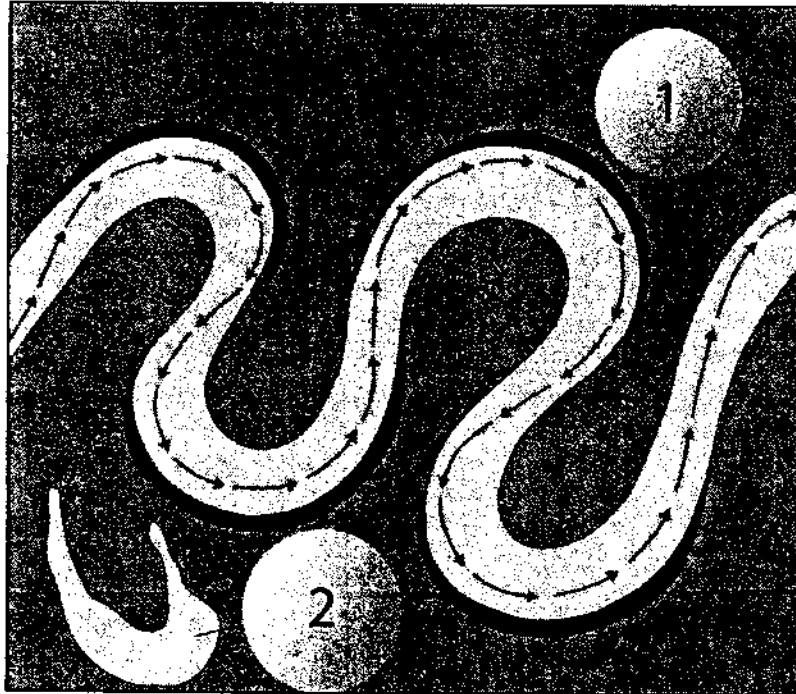
\_\_\_\_\_ пашњаци

(5 x 1 = 5)

8. Посматрајући слику, на линијама у тексту напиши тачне одговоре.

Место на којем се у време формирања меандра врши ерозија, означено је бројем \_\_\_\_\_.

Мртваја, која је настала у процесу \_\_\_\_\_ акумулације, означена је бројем \_\_\_\_\_.



(3 x 2 = 6)



9. Заокружи слово испред тачног одговора.

Која је организација једна од претеча Европске Уније?

- а) Европска заједница за енергетику и рударство
- б) Европска заједница за угаљ и челик
- в) Европска комисија
- г) Савет Европе

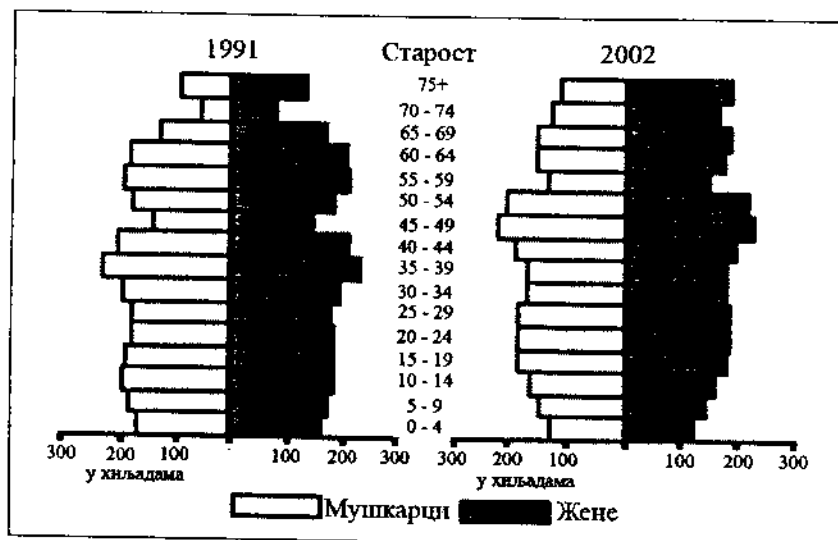
(2)

10. Посматрајући слику, у питању под А напиши, а под Б заокружи тачан одговор.

А) Према попису из 2002. године у старосној групи 75+, узимајући у обзир полну структуру становништва, већи је број \_\_\_\_\_ становништва у односу на \_\_\_\_\_.

Б) Пораст броја становника оба пола, према попису из 2002. године у односу на 1991. годину, забележен је у старосној групи:

- а) 0-4
- б) 70-74



(3 x 2 = 6)

11. Заокружи слово испред тачног одговора.

На географским картама рељеф се може представити помоћу:

- а) изобата
- б) изобара
- в) изохипси
- г) изонефа

(2)



12. Заокружи слова испред тачних одговора.

Који меридијани прелазе преко територије Србије?

- а) 18.
- б) 21.
- в) 25.
- г) 20.
- д) 27.

(2 x 2 = 4)

13. Заокружи бању која се не налази у Војводини.

Русанда, Торда, Горња Трепча, Бања Јунаковић

(2)

14. Заокружи слово испред тачног одговора.

У ком граду кошава дува највећом брзином?

- а) Ваљево
- б) Ужице
- в) Велико Градиште
- г) Приштина

(2)

15. Допуни реченицу.

Уколико кренете на екскурзију из Суботице до Неготина посетићете Националне паркове

\_\_\_\_\_ и \_\_\_\_\_.

(2 x 2 = 4)

16. Заокружи слова испред тачних одговора.

Који се облици рељефа могу видети ако посетите Кучај?

- а) пећине
- б) лесне заравни
- в) дине
- г) клифови
- д) вртаче

(2 x 2 = 4)



17. У следећим реченицама, тамним словима су наведени појмови од којих је један тачан, а један нетачан. У свакој реченици подвуци појам који је тачан.

- а) Тачка са најнижом надморском висином у Србији налази се на ушћу **Тамиша/Тимока** у Дунав.
- б) У Браничеву се налази **Банатска/Рамско-голубачка** пешчара.
- в) Западна Морава има **упореднички/меридијански** правац тока.
- г) Црвеница је местимично распрострањена у **Мачви/Метохији**.
- д) Пчиња припада **Јадранском/Егејском** сливу.

(5 x 2 = 10)

18. Допуни реченицу.

У близини Ужица налазе се туристички уређене пећине: \_\_\_\_\_ и \_\_\_\_\_ . За настанак ових пећина био је доминантан процес \_\_\_\_\_ ерозије.

(2 x 2 + 1 = 5)

19. Испред облика рељефа који су настали радом унутрашњих Земљиних сила напиши слово У, а испред облика рељефа који су настали радом спољашњих сила напиши слово С.

- а) \_\_\_\_\_ Грот
- б) \_\_\_\_\_ Тителска лесна зараван
- в) \_\_\_\_\_ Грделичка клисура
- г) \_\_\_\_\_ Рајкова пећина
- д) \_\_\_\_\_ Вршачки брег

(5 x 2 = 10)

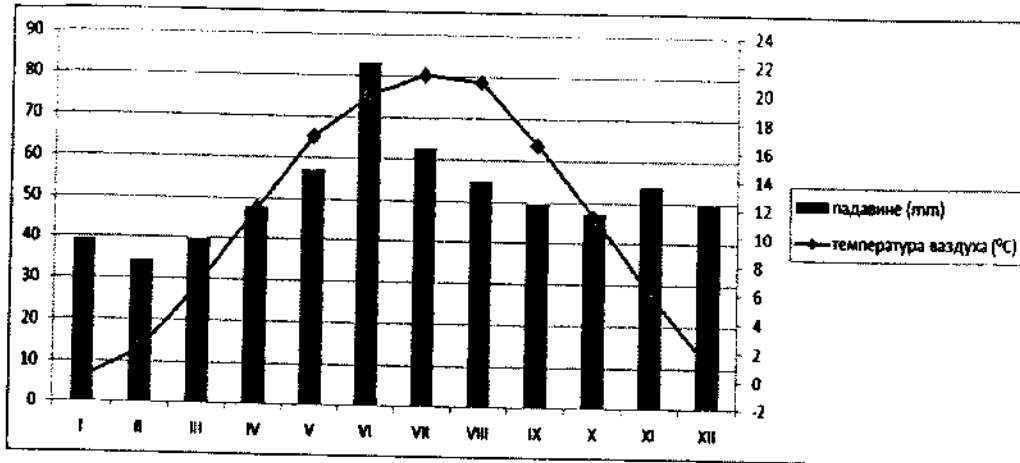
20. Допуни реченицу.

Кроз Параћин протиче река \_\_\_\_\_, док река Белица протиче кроз \_\_\_\_\_.

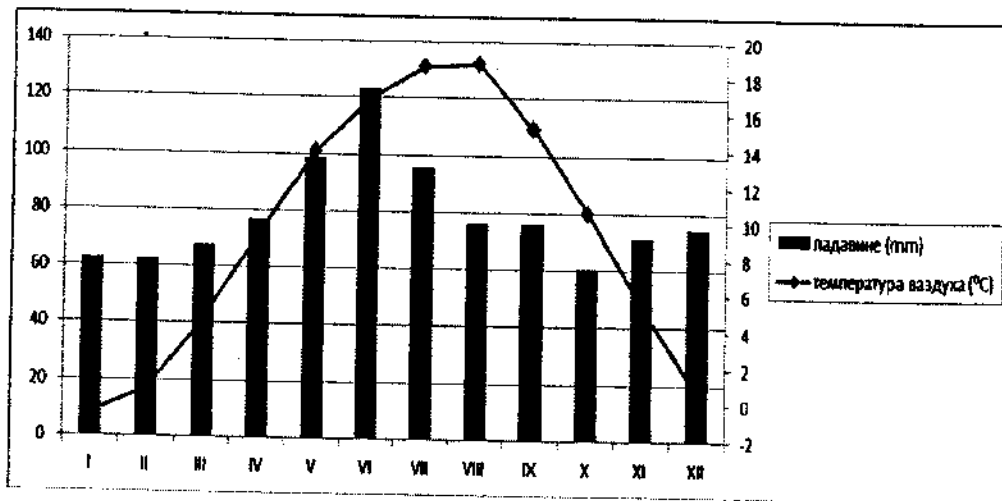
(2 x 2 = 4)



21. На сликама су приказана два климадијаграма на којима су представљене средњемесечне температуре и средњемесечне количине падавина у Сремској Митровици и на Руднику. На линијама испод слика напиши који климадијаграм одговара Сремској Митровици, а који Руднику.



a) \_\_\_\_\_



b) \_\_\_\_\_

(2 x 2 = 4)

Такмичар је на тесту освојио \_\_\_\_\_ бодова

Укупан број бодова: 100

Чланови комисије:

- 1) \_\_\_\_\_
- 2) \_\_\_\_\_
- 3) \_\_\_\_\_